






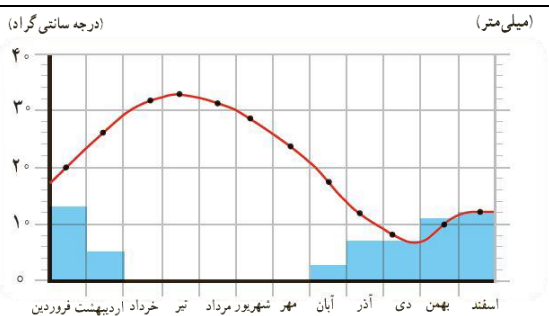
شماره داوطلب : نام : نام خانوادگی : نام پدر : نام آموزشگاه : پایه : هفتم	بسمه تعالی وزارت آموزش و پرورش اداره کل آموزش و پرورش استان یزد مدیریت آموزش و پرورش شهرستان خاتم سنجش و پایش کیفیت آموزشی	نام درس : مطالعات اجتماعی تاریخ امتحان : ۱۴۰۰/۱۰/۰۸ تعداد صفحه : ۴ تعداد سؤال : ۲۵ زمان شروع : ۱۱ وقت : ۶۰ دقیقه
---	--	---

ضمن خیرمقدم به دانش آموزان و داوطلبان عزیز، سؤالات زیر را به دقت بخوانید و با توکل به خدا و آرامش خاطر پاسخ دهید.

نام و نام خانوادگی مصحح اول : نمره با عدد	نام و نام خانوادگی مصحح دوم : نمره تجدید نظر با عدد
نمره با حروف	نمره تجدید نظر با حروف

ردیف	سوالات	بارم
الف	بهترین گزینه را انتخاب کنید: ۱- مهم ترین حق انسان ها کدام اند ؟ الف) حق داشتن امنیت □ ب) حق حیات یا زندگی □ ج) حق برخورداری از سواد و تحصیل □ د) حق داشتن غذا و لباس و مسکن □ ۲- جهت رشته کوه زاگرس - است . الف) جنوب شرقی - شمال شرقی □ ب) شمال غربی - جنوب غربی □ ج) شمال غربی - جنوب شرقی □ د) شمال شرقی - جنوب غربی □	۰/۵
ب	درست و نادرست بودن عبارات زیر را مشخص کنید: ۳- نواحی مرکزی ایران دارای تابستان های گرم و خشک است . □ ص □ غ ۴- نظارت بر حمل و نقل عمومی برای رفت و آمد مردم ، از وظایف استانداری است . □ ص □ غ	۰/۵
پ	جاهای خالی را با عبارات مناسب تکمیل نمایید: ۵- برای اداره بهتر کشور، آن را به بخش هایی تقسیم کرده اند که به آن می گویند. ۶- تهیه و تصویب قوانین عادی کشور در چارچوب قانون اساسی به عهده است.	۰/۵
۷	سه مورد از حقوق خود در خانه و خانواده را بنویسید ؟	۰/۷۵
۸	قانون اساسی را تعریف کنید ؟ یک مثال هم بزنید؟(۱)	۰/۷۵
۹	وظایف جمعیت هلال احمر را در زمان وقوع حوادث بیان کنید؟(سه مورد)	۰/۷۵
۱۰	با توجه به شکل عوامل تولید را فقط نام ببرید؟ 	۰/۷۵

نام درس : مطالعات اجتماعی تاریخ امتحان : ۱۴۰۰/۱۰/۰۸ تعداد صفحه : ۴ تعداد سؤال : ۲۵ زمان شروع : ۱۱ وقت : ۶۰ دقیقه	بسمه تعالی وزارت آموزش و پرورش اداره کل آموزش و پرورش استان یزد مدیریت آموزش و پرورش شهرستان خاتم سنجش و پایش کیفیت آموزشی	شماره داوطلب : نام : نام خانوادگی : نام پدر : نام آموزشگاه : پایه : هفتم
---	--	---

۰/۷۵		سه مورد از حقوق مصرف کنندگان را بنویسید؟	۱۱
۰/۷۵			۱۲
۰/۷۵		این علامت بر روی کالا نشانه چیست و مفهوم این عمل را بنویسید؟	۱۳
۱		دو مورد از ویژگی های هر مکان و منطقه را بنویسید و برای هر یک، یک مثال ذکر کنید؟	۱۴
۰/۷۵		چه وسایلی به ما در شناخت محیط اطراف مان کمک می کنند؟(سه مورد) -۱ -۲ -۳	۱۵
۰/۵			۱۶
۱		نمودار زیر میزان دما و بارش در شهر یزد را نشان می دهد، آنرا تفسیر کنید؟	۱۷

شماره داوطلب :

نام :

نام خانوادگی :

نام پدر :

نام آموزشگاه :

پایه : هفتم

بسمه تعالی

وزارت آموزش و پرورش

اداره کل آموزش و پرورش استان یزد

مدیریت آموزش و پرورش شهرستان خاتم

سنجش و پایش کیفیت آموزشی

نام درس : مطالعات اجتماعی


تاریخ امتحان : ۱۴۰۰/۱۰/۰۸

تعداد صفحه : ۴

تعداد سؤال : ۲۵

زمان شروع : ۱۱

وقت : ۶۰ دقیقه

۱/۲۵	<p>الف) نواحی آب و هوایی ایران را نام ببرید: ۱- معتدل و مرطوب خزری ۲- ۳- ۴- ب) در مورد منطقه ی معتدل و مرطوب خزری هر چه می دانید بنویسید؟</p>	۱۸
۱	<p>زیستگاه ها چگونه تخریب می شوند؟</p> <p>۱- ۲- ۳- ۴-</p> 	۱۹
۱	<p>الف) محیط بان چه کسی است؟ ب) دو مورد از وظایف او را بنویسید؟</p>	۲۰
۱	<p>الف) به طور کلی قانون و مقررات به دو دلیل به وجود آمده است. آن ها را بنویسید؟ ۱) ۲)</p> <p>ب) برای هر یک از موارد زیر مثالی بنویسید؟ ۱) دستورات مذهبی: ۲) توافق یا عادت :</p>	۲۱
۱/۵	<p>الف: وظیفه شورای نگهبان چیست؟ (یک مورد) ب : قوه مقننه از دو رکن تشکیل شده است: ۱- ۲-</p>	۲۲

شماره داوطلب :

نام :

نام خانوادگی :

نام پدر :

نام آموزشگاه :

پایه : هفتم

بسمه تعالی

وزارت آموزش و پرورش

اداره کل آموزش و پرورش استان یزد

مدیریت آموزش و پرورش شهرستان خاتم

سنجش و پایش کیفیت آموزشی

نام درس : مطالعات اجتماعی

تاریخ امتحان : ۱۴۰۰/۱۰/۰۸

تعداد صفحه : ۴

تعداد سؤال : ۲۵

زمان شروع : ۱۱

وقت : ۶۰ دقیقه

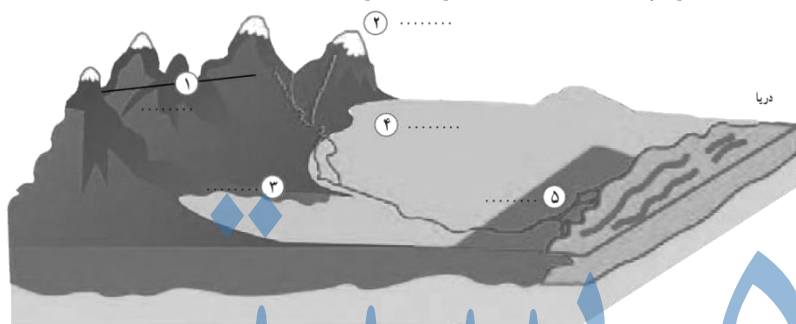
آقای حسینی برای بیمه شخص ثالث ماشین خود و همچنین بیمه آتش سوزی مسکن خود به شرکت بیمه ایران مراجعه کرده است. در این مثال هر یک از موارد زیر را مشخص کنید؟
 الف : بیمه شونده : (.....) ب : بیمه گر : (.....) ج : بیمه اجباری (.....) د : بیمه اختیاری (.....)

ر) هدف از به وجود آمدن بیمه چیست؟

۱/۵

۲۳

روی مدل کنار شماره ها، کلمه ی جلگه، دشت، کوهپایه، قله و رشته کوه را بنویسید؟



۱/۲۵

۲۴

مکان های نشان داده شده بر روی نقشه را مشخص کنید؟



۱/۵

۲۵

دانش آموزان عزیز، خدا قوت... امیدوارم در تمام مراحل زندگی موفق باشید

۲۰